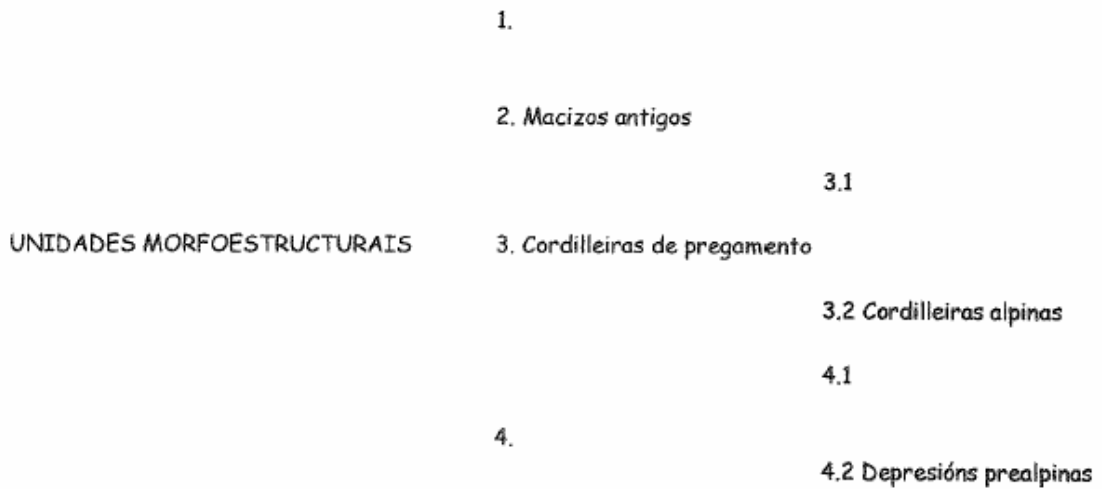


ACTIVIDADES UNIDADE 1: O RELEVO

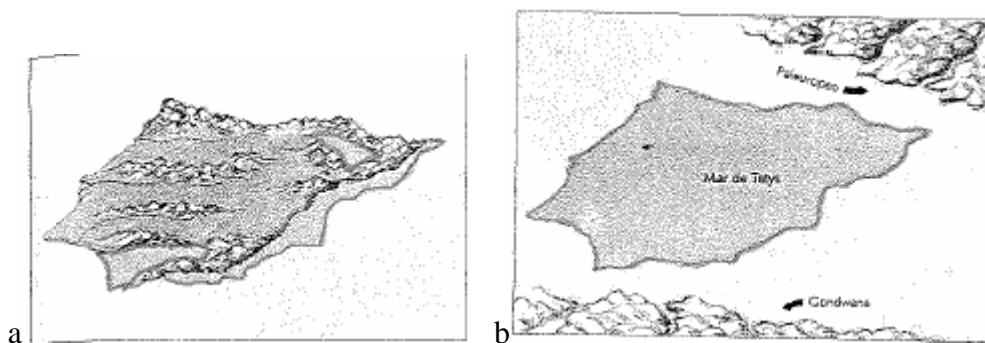
1. Completa o seguinte esquema e contesta as cuestións plantexadas a continuación:

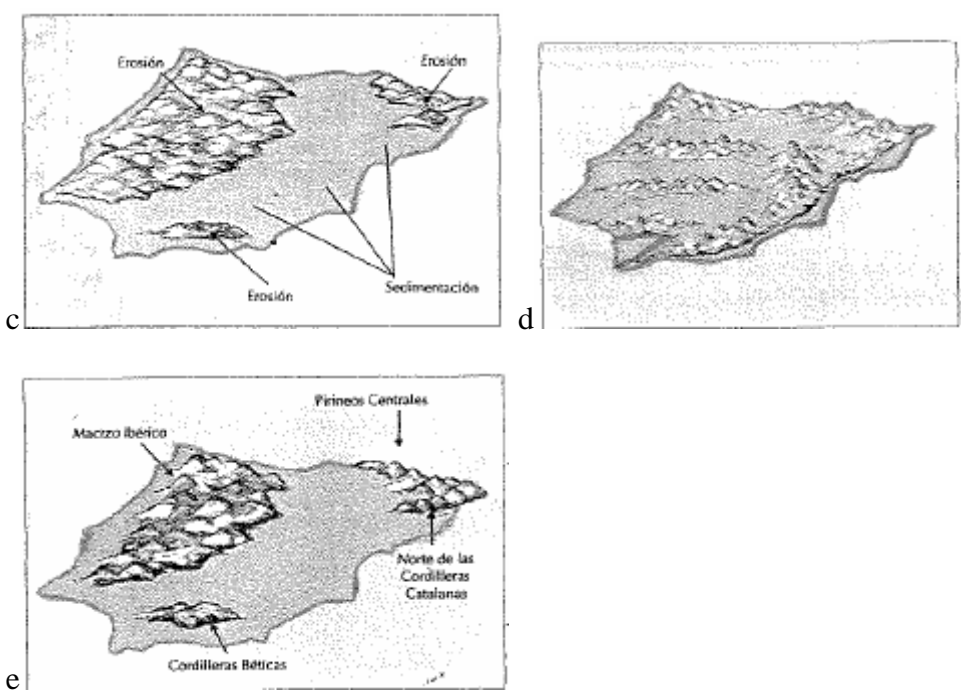


- *En que Era Xeolóxica formáronse cada unha destas unidades morfoestructurais?*
- *Tenta situar as unidades morfoestructurais neste debuxo esquemático*

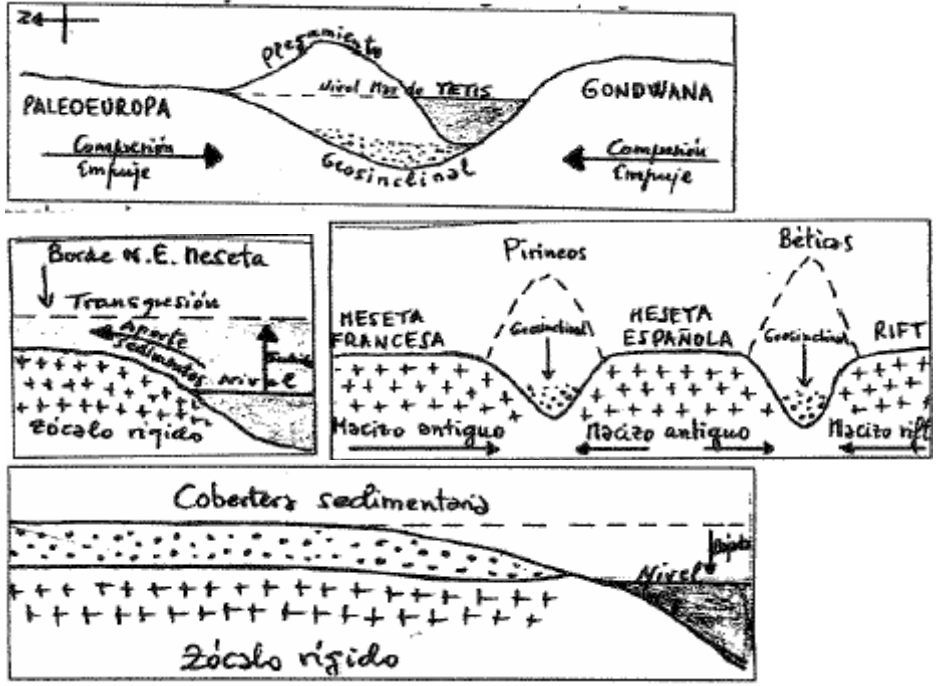


2. Ordena estes mapas segundo a Era Xeolóxica á que pertencen e explica brevemente o porqué da decisión e contesta ás cuestións plantexadas a continuación





- Que partes da península Ibérica levantáronse na Era Primaria? Cando ocorreu isto? Que materiais presentan?
- Que importantes fenómenos xeolóxicos acontecen na península durante a Era Secundaria? Explicaos e sitúa cronologicamente este período. Indica que tipo de rochas, en xeral, son deste período
- Que transformacións prodúcense en España durante a Era Terciaria? Porqué ocorrera? Cando aconteceu isto?
- Qué sucede de especial interese na Era Cuaternaria en relación á configuración do relevo peninsular?
- Asocia agora estes tres debuxos de abaixo ás Eras Xeolóxicas.

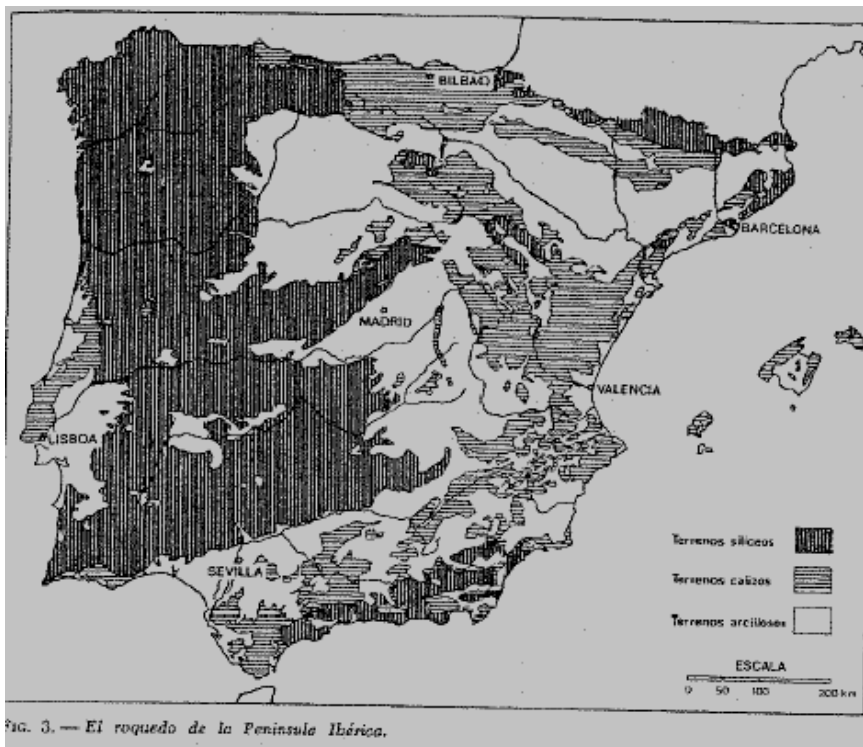


3. Cales son os tres grandes conxuntos litolóxicos da península Ibérica? Asocia estas tres rochas a estes tres grandes conxuntos: calcaria, granito e arxila
4. Indica cal deses tres conxuntos litolóxicos domina nestas formas de relevo

Montes de Toledo	Sector oriental cordal Cantábrico	Depresión do Ebro	Chairas costeiras levantinas
Parte axial dos Pirineos	Sector occidental do cordal Cantábrico	Depresión do Guadalquivir	Submeseta sur
Sistema Ibérico	Cordal Subbético	Serra Morena	Prepirineos
Cordilleira costeiro catalana (parte sur)	Sistema Central	Sistema Penibético	Depresión do Douro

5. Asocia tamén estes termos a cada unha das tres grandes áreas: sima, poljé, cárcava, dolina, lapiaz, berrocal, badland e domo

Realiza o comentario do seguinte mapa temático:



A España silíceo, calcario e arciloso

1. Explicar os conceptos de silíceo, calcario e arciloso.
2. Describir os dominios dos citados ámbitos rochosos.
3. Explicar os factores xeolóxicos que deron lugar aos citados ámbitos litolóxicos.
4. Comentar as formas de relevo asociadas a eses ámbitos litolóxicos

Realiza o comentario do seguinte mapa temático:

